

TABlero DE SELECCIÓN FAMILIAR DE 5º GRADO

MORFOLOGÍA

RAÍZ GRIEGA

PHON = SONIDO

RAÍZ LATINA

JECT = ARROJAR O LANZAR

PIENSA EN TODAS LAS PALABRAS
QUE PUEDAS QUE TENGAN ESTA
RAÍZ - POR EJEMPLO: EJECT

FLUIDEZ

LEE EL POEMA EN LÍNEA

ADIÓS AL VERDE

LEE EL POEMA EN VOZ ALTA
A LOS MIEMBROS DE LA
FAMILIA.

VOCABULARIO

ESCUCHA

LA HISTORIA DE "EL BAILE
DEL ESPANTAPÁJAROS" EN

LÍNEA **AQUÍ**

ESCUCHA LAS
PALABRAS INTERESANTES

EJ:

FORLORN

ENCUENTRA 2 MÁS!

COMPRENSIÓN

ESCUCHA

LA HISTORIA DE "EL BAILE
DEL ESPANTAPÁJAROS" EN

LÍNEA **AQUÍ**

¿CUÁL ES EL

TEMA DE LA HISTORIA?

TEMA= LA GRAN IDEA DEL AUTOR

¿QUÉ LECCIÓN NOS ENSEÑA EL
ESPANTAPÁJAROS?

INVESTIGACIÓN

1 DE OCTUBRE DE 1908


EL MODELO T CAR DE HENRY
FORD

SALIÓ A LA VENTA POR
PRIMERA VEZ EL 1 DE OCTUBRE
DE 1908.

RESEARCH AT THE
LIBRARY OR ONLINE

ABOUT THE MODEL T CAR OR
HENRY FORD.

OCTUBRE

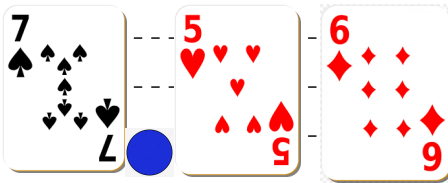


TABLERO DE SELECCIÓN FAMILIAR DE 5º GRADO

MATEMÁTICAS

VALOR POSICIONAL


NECESITAS UNA BARAJA DE CARTAS Y UN OBJETO REDONDO.



LOS JUGADORES DAN LA VUELTA A 3 CARTAS Y COLOCAN EL PUNTO DECIMAL. ¿QUIÉN TIENE EL NÚMERO MAYOR? ¡EL GANADOR SE LLEVA LAS CARTAS!

JUEGOS

JUEGA A ESTE [JUEGO EN LÍNEA](#) PARA PRACTICAR LA ORDENACIÓN DE LOS DECIMALES ¡REVIENTA EL GLOBO!



SOLUCIÓN DE PROBLEMAS

KRIS COMPRÓ UNA CALABAZA DE 8 LIBRAS. PAGÓ 1.95 DÓLARES POR KILO.

¿CUÁNTO PAGÓ KRIS PAGÓ POR LA CALABAZA?

ECUACIONES NUMERICAS

$$(20 + 12) \div 4 =$$

$$40 \times (14 - 6) =$$

$$50 + 6 \times (11 - 4) =$$

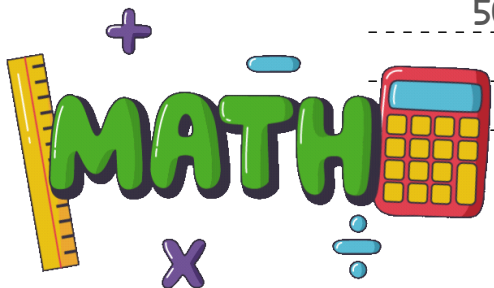
MATEMÁTICAS ALREDEDOR NUESTRO

MIRA LA ETIQUETA DE ESTE ALIMENTO.

4 servings per container
Serving size 1 1/2 cup (208g)

Amount per serving
Calories 240

¿CUÁNTAS TAZAS HAY EN EL CONTENEDOR?



OCTUBRE

